



EVALUACIÓN DIAGNÓSTICA
PARA INGRESAR A SEGUNDO PRIMARIA
MATEMÁTICAS



Nombre: _____

Fecha: ____/____/____

SERIE I: Lee y escribe los siguientes números. (2 pts. c/u Total 8 pts.)

1. Seiscientos cuarenta y dos

2. Trescientos nueve

3. Quinientos cincuenta y cinco

4. Cuatrocientos ochenta

SERIE II: Escribe con letras los siguientes números. (2 pts. c/u Total 8 pts.)

1) 100 _____

2) 200 _____

3) 300 _____

4) 400 _____

SERIE III: En cada grupo escribe los números que hacen falta.

(1 pt. c/u Total 12 pts.)

		127
--	--	-----

	226	
--	-----	--

		103
--	--	-----

	156	
--	-----	--

	316	
--	-----	--

398		
-----	--	--

SERIE IV: Realiza las siguientes operaciones. (2 pts. c/u Total 12 pts.)

	6	5	8
+		3	2
<hr/>			

	4	3	7
+	4	5	5
<hr/>			

	2	7	8
+	3	5	6
<hr/>			

	3	4	2
-		2	7
<hr/>			

	5	3	5
-	4	6	5
<hr/>			

	9	6	4
-	3	5	8
<hr/>			

SERIE V: Completa la tabla escribiendo los números de 10 en 10.
(2 pts. c/u Total 12 pts.)

10				50	60				100
----	--	--	--	----	----	--	--	--	-----

SERIE VI: Escribe el signo $>$ o $<$ donde corresponde. (2 pts. c/u Total 6 pts.)

356		565
-----	--	-----

892		982
-----	--	-----

739		233
-----	--	-----

SERIE VII: Completa las equivalencias. (1 pt. c/u Total 4 pts.)

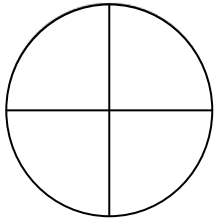
1) 1 año = ___ meses

3) 1 mes = ___ días

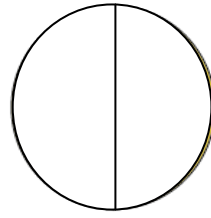
2) 1 semana = ___ días

4) 365 días = ___ año

SERIE VIII: Lee la fracción y colorea. (3 pts. c/u Total 6 pts.)



$\frac{1}{4}$

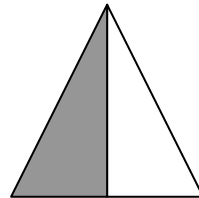


$\frac{2}{2}$

SERIE IX: Observa las figuras y escribe la fracción que representan.
(3 pts. c/u Total 6 pts.)




—




—


SERIE X: Une con líneas de diferente color el reloj de agujas con el reloj digital que marque la misma hora. (3 pts. c/u Total 9 pts.)



10:30



6:15



12:00

SERIE XI: Escribe el número que representa cada número romano. (1 pt. c/u Total 5 pts.)

XV	=	
----	---	--

XVIII	=	
-------	---	--

XX	=	
----	---	--

XIX	=	
-----	---	--

XIII	=	
------	---	--

SERIE XII: Escribe con letras los números ordinales. (1 pt. c/u Total 6 pts.)

1) 12° _____

4) 18° _____

2) 26° _____

5) 30° _____

3) 14° _____

6) 15° _____

SERIE XIII: Resuelve los siguientes problemas. Lee y piensa bien para saber si debes restar o sumar. **(3 pts. c/u Total 6 pts.)**

1. En el parque estaban jugando nueve niños, pero cuatro ya se fueron a su casa.
¿Cuántos niños quedaron en el parque?

Respuesta: en el parque quedaron ____ niños.

OPERACIÓN

2. Julio tiene seis pelotas de tenis y su hermano Felipe tiene cuatro.
¿Cuántas pelotas tienen entre los dos?

Respuesta: por todas tienen ____ pelotas entre los dos.

OPERACIÓN
