



**CLAVE DIAGNÓSTICA**  
**PARA INGRESAR A SEGUNDO PRIMARIA**  
**MATEMÁTICAS**

**SERIE I:** Lee y escribe los siguientes números. (2 pts. c/u Total 8 pts.)

1. Seiscientos cuarenta y dos

642
-----

2. Trescientos nueve

309
-----

3. Quinientos cincuenta y cinco

555
-----

4. Cuatrocientos ochenta

480
-----

**SERIE II:** Escribe con letras los siguientes números. (2 pts. c/u Total 8 pts.)

1. 100 cien

2. 200 doscientos

3. 300 trescientos

4. 400 cuatrocientos

**SERIE III:** En cada grupo escribe los números que hacen falta. (1 pt. c/u Total 12 pts.)

125	126	127
-----	-----	-----

225	226	227
-----	-----	-----

101	102	103
-----	-----	-----

155	156	157
-----	-----	-----

315	316	317
-----	-----	-----

398	399	400
-----	-----	-----

**SERIE IV:** Realiza las siguientes operaciones. (2 pts. c/u Total 12 pts.)

	6	5	8
+		3	2
	6	9	0

	4	3	7
+	4	5	5
	8	9	2

	2	7	8
+	3	5	6
	6	3	4

	3	4	2
-		2	7
	3	1	5

	5	3	5
-	4	6	5
		7	0

	9	6	4
-	3	5	8
	6	0	6

**SERIE V:** Completa la tabla escribiendo los números de 10 en 10.  
(2 pts. c/u Total 12 pts.)

10	20	30	40	50	60	70	80	90	100
----	----	----	----	----	----	----	----	----	-----

**SERIE VI:** Escribe el signo  $>$  o  $<$  donde corresponde. (2 pts. c/u Total 6 pts.)

356	$<$	565
-----	-----	-----

892	$<$	982
-----	-----	-----

739	$>$	233
-----	-----	-----

**SERIE VII:** Completa las equivalencias. (1 pt. c/u Total 4 pts.)

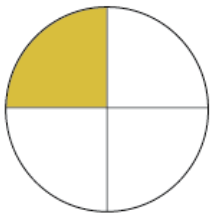
1) 1 año = 12 meses

3) 1 mes = 30 días

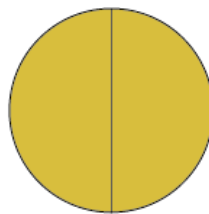
2) 1 semana = 7 días

4) 365 días = 1 año

**SERIE VIII:** Lee la fracción y colorea. (3 pts. c/u Total 6 pts.)



$$\frac{1}{4}$$

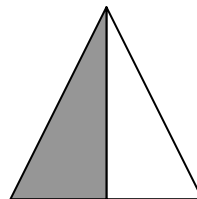


$$\frac{2}{2}$$

**SERIE IX:** Observa las figuras y escribe la fracción que representan.  
(3 pts. c/u Total 6 pts.)

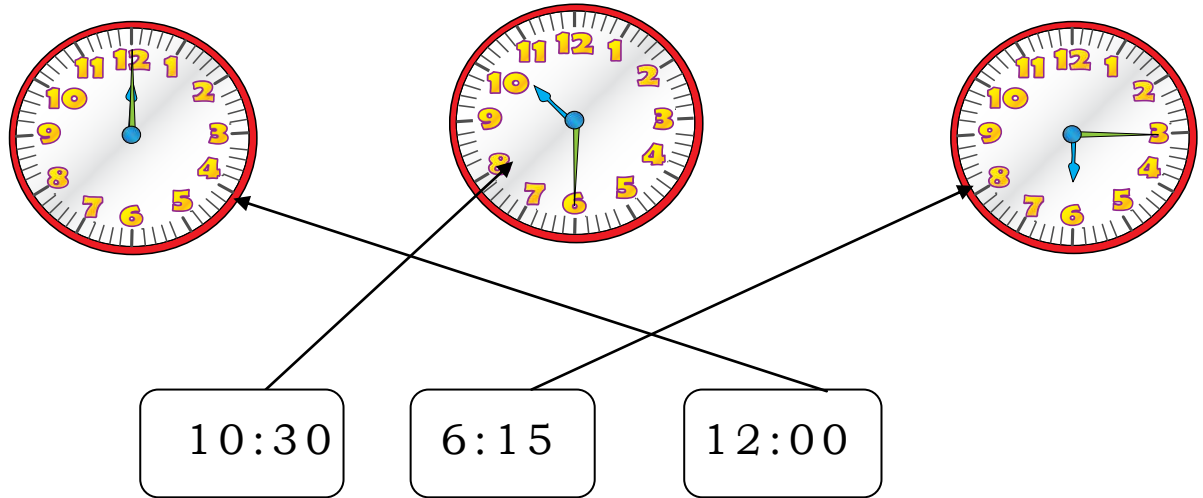


$$\frac{1}{3}$$



$$\frac{1}{2}$$

**SERIE X:** Une con líneas de diferente color el reloj de agujas con el reloj digital que marque la misma hora. (3 pts. c/u Total 9 pts.)



**SERIE XI:** Escribe el número que representa cada número romano. (1 pt. c/u Total 5 pts.)

XV	=	15
----	---	----

XVIII	=	18
-------	---	----

XX	=	20
----	---	----

XIX	=	19
-----	---	----

XIII	=	13
------	---	----

**SERIE XII:** Escribe con letras los números ordinales. (1 pt. c/u Total 6 pts.)

1) 12° duodécimo

4) 18° decimoctavo

2) 26° vigésimo sexto

5) 30° trigésimo

3) 14° decimocuarto

6) 15° decimoquinto

**SERIE XIII:** Resuelve los siguientes problemas. Lee y piensa bien para saber si debes restar o sumar. (3 pts. c/u Total 6 pts.)

1. En el parque estaban jugando nueve niños, pero cuatro ya se fueron a su casa.  
¿Cuántos niños quedaron en el parque?

Respuesta: en el parque quedaron 5 niños.

OPERACIÓN

$$\begin{array}{r} 9 \\ - 4 \\ \hline 5 \end{array}$$

2. Julio tiene seis pelotas de tenis y su hermano Felipe tiene cuatro.  
¿Cuántas pelotas tienen entre los dos?

Respuesta: por todas tienen 10 pelotas entre los dos.

OPERACIÓN

$$\begin{array}{r} 6 \\ + 4 \\ \hline 10 \end{array}$$