



MEJORAMIENTO CIENCIAS NATURALES 2do. PRIMARIA



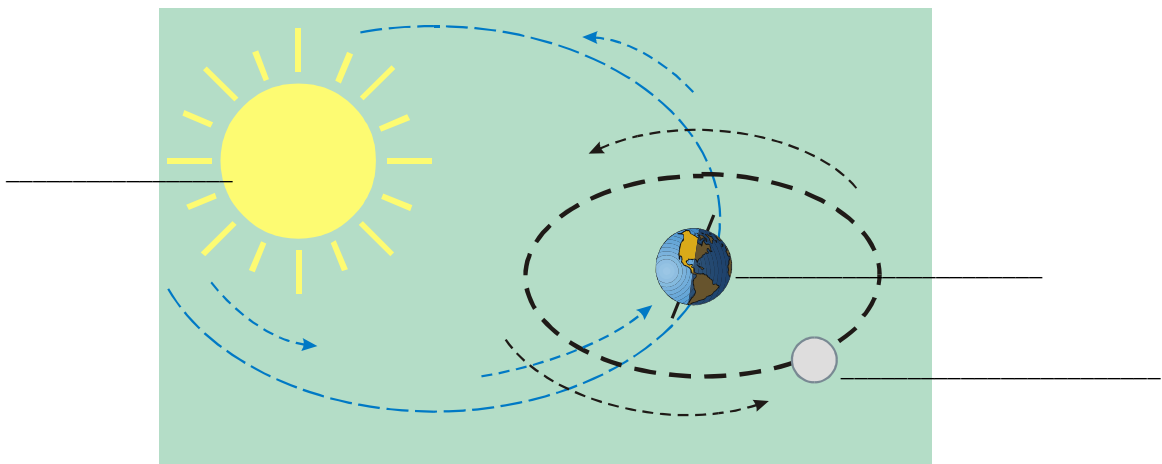
Nombre: _____

Fecha: _____ / _____ / _____

SERIE I: Escribe adentro de los paréntesis el número que representa el concepto de cada afirmación.

1. planetas	() Cuerpos celestes que tienen luz propia.
2. satélites	() Reflejan la luz del Sol y giran alrededor de él.
3. constelaciones	() Se forman cuando se unen gotitas de agua y polvo.
4. nubes	() Objeto natural o artificial que gira alrededor de un planeta.
5. estrellas	() Grupos de estrellas que tienen nombre propio.
6. lluvia	


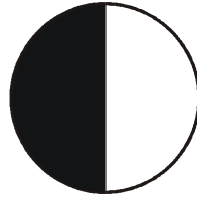


SERIE II: Escribe sobre la línea los nombres que corresponden a cada dibujo. Puedes guiarte por la dirección que señalan las flechas. Luego completa las oraciones.



La _____ da vueltas alrededor de la Tierra.

Al mismo tiempo, la Luna y la Tierra giran alrededor del _____.

SERIE III: Observa los dibujos de las fases de la luna y escribe el nombre de cada una.



SERIE IV: Subraya la respuesta que consideres correcta para cada una de las siguientes preguntas.

1. Las nubes de las cuales cae mucha lluvia:
 - a) parecen ser de plumas
 - b) parecen sábanas oscuras
 - c) parecen de algodón

2. Al viaje que hace la lluvia le llamamos:
 - a) ciclo de las nubes
 - b) ciclo del vapor
 - c) ciclo de la lluvia

3. Es una brillante estrella formada por gases calientes.
 - a) Luna
 - b) Sol
 - c) Planeta

4. Es el grupo formado por nueve planetas girando alrededor del Sol:
 - a) Sistema Solar
 - b) Universo
 - c) a y b son correctas

5. Son aparatos con lentes que aumentan tamaños y sirven para ver estrellas y planetas:
 - a) satélites
 - b) naves espaciales
 - c) telescopios

6. Son los científicos que se dedican a estudiar el Universo:
 - a) astronautas
 - b) astrónomos
 - c) meteorólogos

7. Es el aire que se mueve de un lado para otro:
 - a) polvo
 - b) viento
 - c) soplo

8. Aparato que mide la velocidad del viento:
 - a) brújula
 - b) telescopio
 - c) anemómetro

9. Es el satélite natural de la tierra:
 - a) Sol
 - b) Luna
 - c) Marte

10. Nombre que se les da a los tripulantes de las naves espaciales:
 - a) astrónomos
 - b) meteorólogos
 - c) astronautas

SERIE V: Completa el versículo escribiendo las palabras que hacen falta.

Tuyo es el _____, tuya también es la _____.

Tu estableciste la _____ y el _____.

_____ 74:16

SERIE VI: Completa las oraciones escribiendo las palabras que están en el rectángulo, donde les corresponda.

preciosos	dientes	metales
sólidos	inanimados	roca

1. Nuestros _____ están formados por minerales.
2. Las rocas y piedras son los minerales _____ .
3. Los objetos que no tienen vida son llamados _____.
4. A la reunión de diversos minerales se le llama _____.
5. Los minerales más importantes son los _____.

SERIE VII: Escribe a la par de cada palabra, vegetal, animal o mineral, según el reino al que pertenezca.

- | | | | |
|-------------|-------|--------------|-------|
| 1. caballo | _____ | 6. petróleo | _____ |
| 2. sal | _____ | 7. tomate | _____ |
| 3. mariposa | _____ | 8. canguro | _____ |
| 4. naranja | _____ | 9. agua | _____ |
| 5. pino | _____ | 10. coliflor | _____ |

SERIE VIII: Subraya la respuesta que consideres correcta.

- Son las rocas que salen de un volcán en erupción:
 - sedimentarias
 - ígneas
 - metamórficas
- El fósforo y el yodo son minerales...
 - sólidos
 - venenosos
 - alimenticios
- Es un tipo de roca blanda y moldeable. Al mezclarse con agua se forma barro:
 - mármol
 - arcilla
 - granito
- Es la piedra preciosa más dura y de mayor brillo:
 - topacio
 - esmeralda
 - diamante
- Son los lugares de donde se extraen los minerales sólidos y son peligrosos porque allí el aire es escaso y puede haber derrumbes:
 - minas
 - refinerías
 - salinas
- Son los científicos que estudian las rocas, montañas y ríos:
 - afinadores
 - geólogos
 - mineros

7. Son las rocas formadas por muchos granos de arena

- a) sedimentarias
- b) ígneas
- c) metamórficas

8. Son piedras blandas de color blanco:

- a) granito
- b) caliza
- c) mármol

9. Es un metal que se utiliza para hacer tuberías:

- a) hierro
- b) cobre
- c) plomo

10. Es un material barato y fácil de trabajar:

- a) cinc
- b) aluminio
- c) mercurio

SERIE IX: Escribe a la par de cada mineral si es una roca, piedra preciosa o metal.

- | | | | |
|--------------|-------|------------|-------|
| 1. platino | _____ | 4. cinc | _____ |
| 2. esmeralda | _____ | 5. granito | _____ |
| 3. arena | _____ | | |

SERIE X: Completa el versículo.

Mejor es adquirir _____ que _____.

Y adquirir _____ vale _____ que la _____.

Proverbios 16:16

SERIE XI: Completa cada afirmación.

1. Las plantas _____ tienen la raíz en el aire.
2. Los tallos de los árboles se les llama _____.
3. La _____ es la parte de la planta que se convertirá en fruto.
4. El _____ es un “hilito” grueso en el centro de la flor.
5. La semilla necesita de _____ , calor y _____ para estar bien.
6. La sandía es una fruta grande, pero que nace de una clase de planta llamada _____ .
7. El palito que sostiene la hoja es el _____.
8. La _____ da el color verde a las plantas.
9. Los tallos de los árboles son _____.

SERIE XII: Subraya la respuesta correcta.

1. Parte de la planta que la sostiene:
 - a) semilla
 - b) tallo
 - c) raíz
2. Es la parte comestible de la cebolla:
 - a) la flor
 - b) el tallo
 - c) la raíz
3. Los rosales pertenecen a las plantas llamadas:
 - a) arbustos
 - b) hierbas
 - c) árboles
4. Es una de las raíces que comemos:
 - a) la zanahoria
 - b) el maíz
 - c) la lechuga
5. No tienen clorofila:
 - a) árboles
 - b) hongos
 - c) frijoles

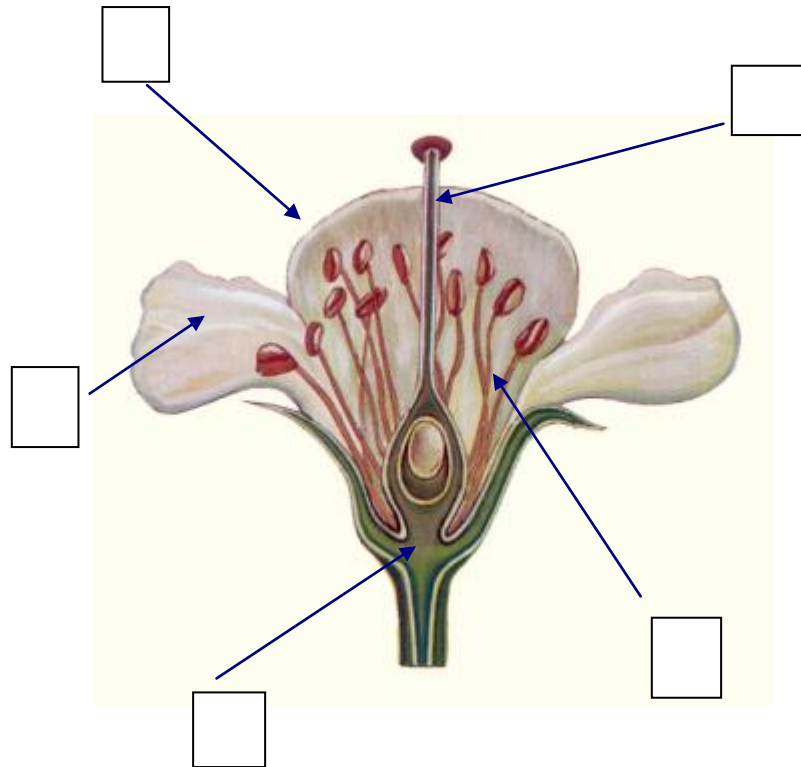
6. Es la parte de la flor que sostiene a los pétalos:
- a) corola
 - b) estambre
 - c) cáliz
7. Parte de la flor formada por todos los pétalos:
- a) corola
 - b) estambre
 - c) cáliz
8. Es la diferencia entre los animales y las plantas:
- a) los animales no necesitan tierra
 - b) las plantas no necesitan agua
 - c) las plantas no se pueden mover
9. Es la parte de la planta que sirve para producir semillas:
- a) el tallo
 - b) el fruto
 - c) la flor
10. Es la parte de la planta que el hombre utiliza para fabricar perfumes:
- a) la hoja
 - b) el tallo
 - c) la flor

SERIE XIII: Escribe una **V** si la afirmación es verdadera o una **F** si es falsa.

1. Las plantas terrestres tienen la raíz adentro del agua. _____
2. Las hierbas tienen tallos blandos y delgados. _____
3. La clorofila permite que las hojas puedan respirar. _____
4. Las plantas producen su propio alimento. _____
5. El limbo es el cuerpo de la hoja. _____

SERIE XIV: Escribe el número que corresponde a cada parte de la flor.

1. **corola**
2. **pistilo**
3. **cáliz**
4. **pétalo**
5. **estambres**



SERIE XV: Completa el versículo escribiendo las palabras que hacen falta.
(2 pts. c/u Total 10 pts.)

No me elegisteis vosotros a _____, sino que yo os elegí a _____, y os he puesto para que _____ y llevéis _____ y vuestro fruto _____.

Juan 15:16