



MEJORAMIENTO MATEMÁTICA 1ro. PRIMARIA





Nombre: _____


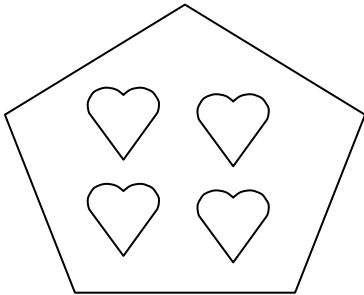
Fecha: / /

SERIE I: Lee y haz lo que se te indica.

1. Dibuja un conjunto que tenga **menos elementos que** el conjunto representado.



2. Dibuja un conjunto que tenga **tantos elementos como** el conjunto representado.



SERIE II: Escribe los números que faltan para completar la numeración. Luego colorea de verde los números impares y de azul los números pares.



SERIE III: Escribe el signo $<$ o $>$ donde corresponde.

8		6
---	--	---




3		4
---	--	---

9		8
---	--	---

7		9
---	--	---

5		6
---	--	---

SERIE IV: Observa los conjuntos y escribe un nombre para cada uno.



SERIE V: Escribe el valor de cada número con letras.

2 _____

4 _____

6 _____

10 _____

5 _____

9 _____

SERIE VI: Escribe el número que falta en cada grupo.

2		4	5
---	--	---	---

9	8		6
---	---	--	---

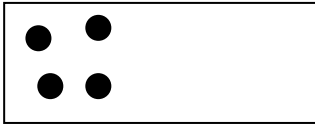
5	6	7	
---	---	---	--

3		5	6
---	--	---	---

	9	8	7
--	---	---	---

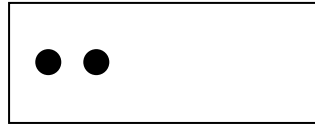
SERIE XI: Escribe el número que falta, o sea, el número de puntos necesarios para obtener el total.

8 en total




Faltan _____

5 en total



Faltan _____

10 en total



Faltan _____

6 en total





Faltan _____

7 en total



Faltan _____

SERIE XII: Colorea una decena de dibujos en cada grupo.



SERIE XIII: Observa las operaciones y escribe el nombre de cada elemento y signo.

$$\begin{array}{r}
 6 \\
 + 3 \\
 \hline
 9
 \end{array}$$

$$\begin{array}{r}
 9 \\
 \square \ 6 \\
 \hline
 3
 \end{array}$$

SERIE XIV: Escribe los números representados en decenas y unidades.

8 decenas y 3 unidades = _____ = _____

6 decenas y 0 unidades = _____ = _____

4 decenas y 9 unidades = _____ = _____

9 decenas y 2 unidades = _____ = _____

7 decenas y 7 unidades = _____ = _____

5 decenas y 6 unidades = _____ = _____

3 decenas y 8 unidades = _____ = _____

SERIE XV: Dibuja la recta numérica que representa cada operación.

Recta que represente la **SUMA** $4 + 3 = 7$

Recta que represente la **RESTA** $10 - 4 = 6$

SERIE XVI: Completa.

1. Una hora tiene _____ minutos.
2. Sumar es _____ dos o más cantidades en una sola.
3. La aguja que indica los minutos se llama _____.
4. Restar es _____ una cantidad.
5. La aguja que indica la hora se llama _____.

SERIE XVII: Resuelve los siguientes problemas. Lee y piensa bien para saber si debes restar o sumar.

En el parque estaban jugando nueve niños, pero cuatro ya se fueron a su casa.
¿Cuántos niños quedaron en el parque?

Respuesta: en el parque quedaron _____ niños.

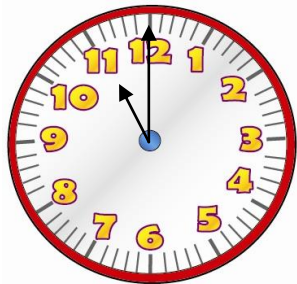
OPERACIÓN

Julio tiene seis pelotas de tenis y su hermano Felipe tiene cuatro.
¿Cuántas pelotas tienen por todas?

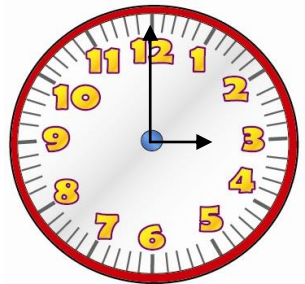
Respuesta: por todas tienen _____ pelotas.

OPERACIÓN

SERIE XVIII: Escribe la hora que indica cada reloj.



10:00



SERIE XIX: Realiza cada una de las operaciones. Observa muy bien cada signo.

$5 + 3 = \square$

$2 + 8 = \square$

$4 + 4 = \square$

$6 + 1 = \square$

$3 + 4 = \square$

$$\begin{array}{r} 8 \\ - 3 \\ \hline \square \end{array}$$

$$\begin{array}{r} 9 \\ - 5 \\ \hline \square \end{array}$$

$$\begin{array}{r} 5 \\ - 2 \\ \hline \square \end{array}$$

$$\begin{array}{r} 7 \\ - 6 \\ \hline \square \end{array}$$

$$\begin{array}{r} 4 \\ - 2 \\ \hline \square \end{array}$$