



Mes 1

Ciencias Sociales | Cuarto Primaria

Completa las oraciones.

Los se dedican a estudiar la geografía.

Los son las personas que estudian la historia.

Los mapas nos sirven para orientarnos.

A lo largo de la historia se han realizado arriesgadas expediciones en las cuales se fueron descubriendo y explorando todos los lugares del planeta. A la vez, se hicieron dibujos de los territorios explorados, y se marcaron en ellos los accidentes geográficos.



Al dibujo plano de un área se le llama mapa.
Las personas que dibujan los mapas son los cartógrafos.

Inicialmente los mapas no eran muy exactos, porque no se contaba con la tecnología que hoy tenemos. Sin embargo, debemos reconocer que los cartógrafos de épocas antiguas hicieron un gran trabajo.



satélite artificial

Gracias al avance de la ciencia y la tecnología, en la actualidad se cuenta con aparatos que proporcionan datos precisos, y con ellos se han podido elaborar mapas exactos de todos los lugares. Entre dichos aparatos se encuentran los **satélites artificiales**, que desde el espacio toman fotos de cada área del planeta. Esto ha permitido que tengamos mapas muy exactos.



Los mapas más comunes son los llamados “mapas generales”, que contienen accidentes geográficos como montañas, ríos, lagos y océanos, y las divisiones que han sido establecidas por los hombres, tales como las líneas que muestran dónde empiezan y terminan los países, sus capitales y ciudades principales, sus carreteras y líneas del ferrocarril, así como los lugares turísticos más importantes.

También existen los mapas temáticos, que no contienen muchos datos, pero detallan algún tema especial como el clima y los recursos naturales. Los mapas temáticos más comunes son:

Mapa político

Un mapa político o administrativo muestra las fronteras o límites de un área. Puede ser de un continente, país, región, etc. En él se ubican las ciudades y poblaciones de cada país.



Mapa físico

Los mapas físicos muestran la ubicación de los accidentes geográficos de una región (volcanes, ríos, lagos, etc.)



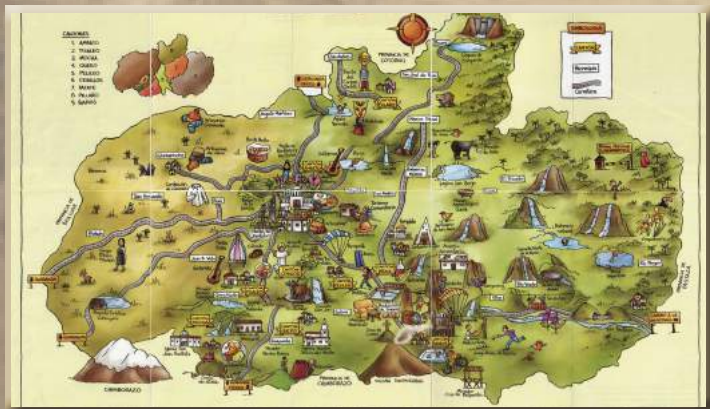
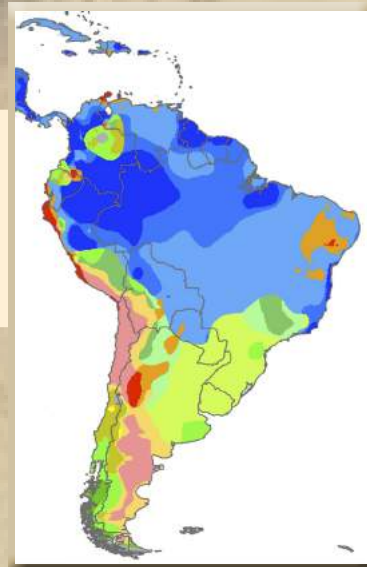
Mapa turístico

Estos mapas muestran las vías de comunicación de un área o país: sus carreteras, caminos, vías de ferrocarril, etc. Además, incluyen los principales lugares turísticos de esa región.



Mapa climático

Los mapas climáticos representan los climas de determinada área o país.

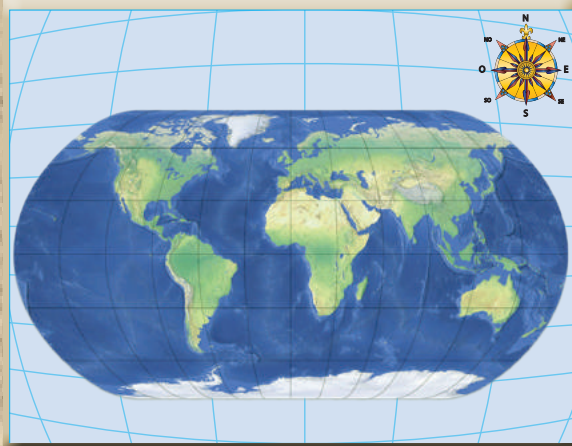
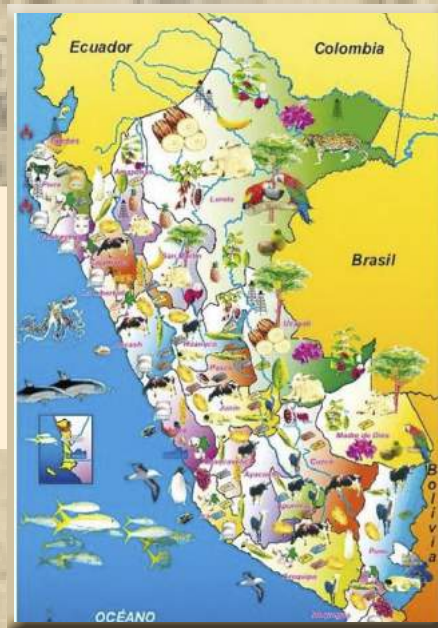


Mapa pictórico

Esta clase de mapas representa con dibujos la producción ya sea de animales, cultivos o minerales de una región o país.

Mapa económico

El mapa económico es un mapa pictórico que muestra la producción o riqueza económica de un área: sus cultivos, ganadería, minería, etc.

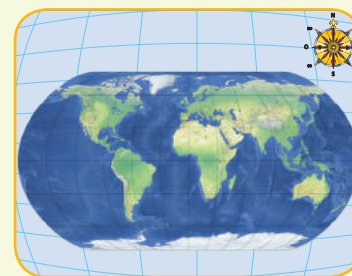


Mapamundi

En el mapamundi se representa todo el planeta de forma plana.

Actividad 6

1. Trazo una línea para unir el mapa con su nombre.



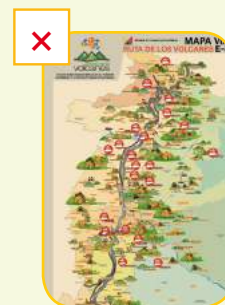
mapa físico

mapamundi

mapa político

2. Marco con una X el mapa que se usa en cada situación.

- El señor Fernández quiere visitar un centro turístico en la provincia de Napo. Necesita conducir su automóvil desde Quito hasta el centro turístico.



- Roberto y sus amigos desean escalar los volcanes más altos de Ecuador.

